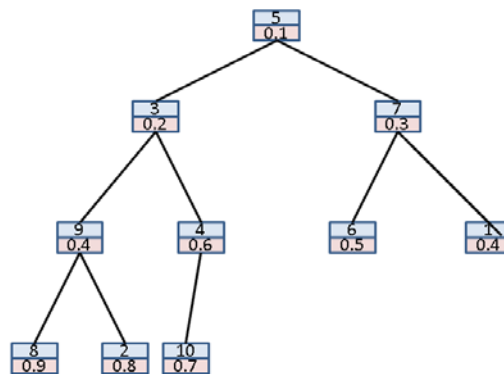


「グラフと組み合わせ」課題 8 (解答例)

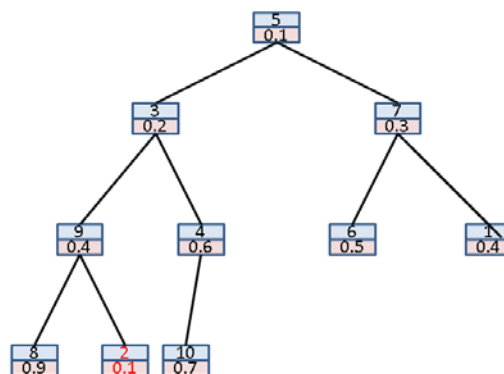
2012/6/18

1 二分木ヒープ中の要素の値を小さくする

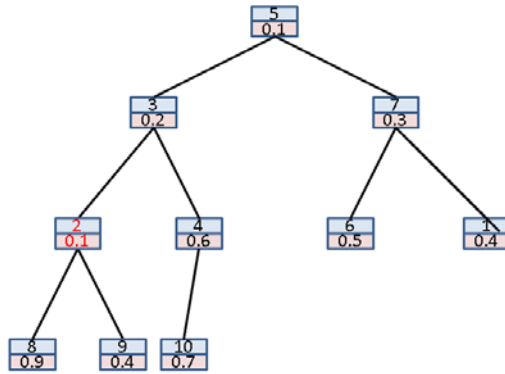


上の二分木ヒープにおいて、label 2 の要素の値を 0.1 と小さくしたときに、その要素が二分木をシフトアップする様子を追いなさい。

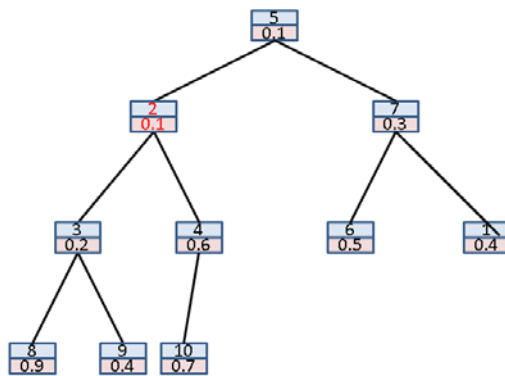
解答例



値の変更



一段シフトアップ



二段シフトアップ。終了